



نگار، مشارکت، دست ورزی

۵- جدول و جاهای خالی را کامل کن.

یک ده تایی

یک ده تایی

۱- عدد یکی قبل را در و یکی بعد را در بنویسید.

۲- حاصل جمع را با رنگ کردن چینه ها به دست بیاور.

$5+2+3=$

۳- اندازه مداد بین و است.

اندازه شانه است.

۶- جواب جمع ها را با چوب خط رنگی به دست بیاورید.

$6+5+4=$

$8+2+3+5=$

۷- جدول شگفت انگیز زیر را کامل کن.

۶	۱		۵	۹	۲	۸	۳	۷
۸	۵	۲	۶		۳	۹	۴	۱
۹	۷	۳	۱	۴	۸	۵	۲	
۳	۶	۸	۹		۱	۲	۷	۴
	۴	۵	۸		۶	۱	۹	۳
۲	۹	۱	۷		۴	۶		۸
۴	۸	۹	۳	۶	۵	۷	۱	۲
۱	۲		۴	۸	۹	۳	۶	۵
۵	۳	۶		۱	۷		۸	۹

۴- الگو های عددی زیر را ادامه بده.


۰-۳-۶-۹- - - - -

۲۰-۲۵-۳۰- - - - -

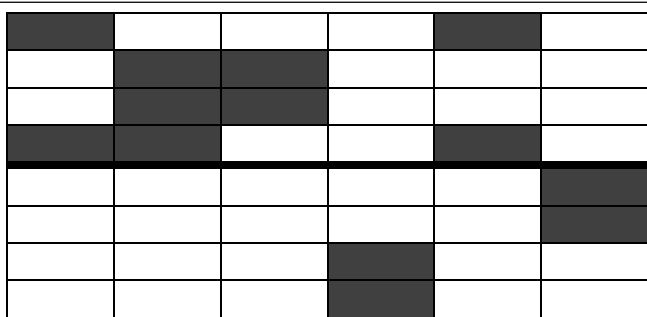
- - - - -۶۰-۷۰

۱۳- علی ۱۷ تیله داشت . ۷ تای آن را به دوستش رضا داد .
 ۵ تای تیله دیگر را هم به محمد داد . حالا چند تا تیله برایش
 باقی مانده است ؟ (با محور)

۸- باتوجه به شکل های داده شده کامل کن .
 درخت شماره کوتاهترین است .
 درخت شماره ۱ و ۴ هستند .
 درخت شماره ۲ از درخت شماره ۳ است .



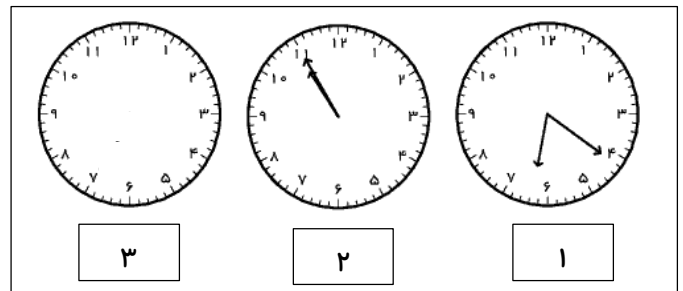
۱۴- نیمه دیگر شکل را رنگ بزن .



۹- جدول زیر را کامل کنید .

سی و دو	نود و پنج	چهارده
۴۸	۶۶	

۱۰- جاهای خالی را کامل کنید .



۱. ساعت از گذشته است .

۲. کمی به ساعت مانده است .

۳. ساعت ۸ است . (روی ساعت نشان بده)

۱۵- زهرا ۶ بسته ده تایی مداد داشت . او ۳ بسته ده تایی مداد
 را به دوستش داد . حالا زهرا چند مداد دارد ؟ (با چوب خط)

۱۱- جمع و تفریق های زیر را پاسخ بده .

$$۳۰ + ۲۰ + ۱۰ - ۵ =$$

$$۸ + ۷ =$$

$$۱ + ۴ + ۵ + ۵ + ۵ =$$

$$۹۰ - ۳۰ =$$

$$۲۰ + ۱۵ + ۲۰ + ۲۵ - ۱۰ =$$

$$۴۰ + ۴۰ =$$

۱۲- شکل بکش و نام هر شکل را بنویس .



مربع - دایره -

شاد و سر بلند باشی عزیزم